

【6】练一练 六

1. 列竖式计算。

$$45 - 18$$

$$91 - 72$$

$$45 - 27$$

$$90 - 28$$

$$93 - 45$$

$$76 - 58$$

2. 下面的计算对吗? 把不对的改正过来。



$$\begin{array}{r} 43 \\ - 17 \\ \hline 36 \end{array}$$



$$\begin{array}{r} 31 \\ - 22 \\ \hline 11 \end{array}$$



$$\begin{array}{r} 56 \\ - 37 \\ \hline 29 \end{array}$$



3. 依次在□里填数。

$$56 \xrightarrow{-7} \square \xrightarrow{-7} \square \xrightarrow{-7} \square \xrightarrow{-7} \square \xrightarrow{-7} \square$$

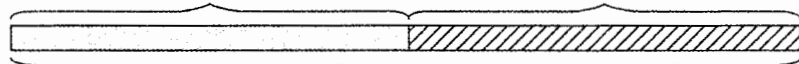
$$80 \xrightarrow{-16} \square \xrightarrow{-16} \square \xrightarrow{-16} \square \xrightarrow{-16} \square \xrightarrow{-16} \square$$

4. 图书馆借书。

借出 48 本


还剩 本

算式:



一共有 95 本书


5. 阅览室里看图书。

女生有 7 组, 每组 8 人 男生有 人

共有 85 人

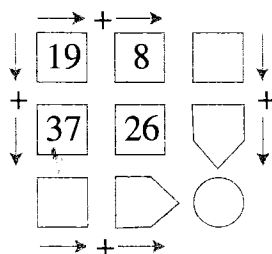
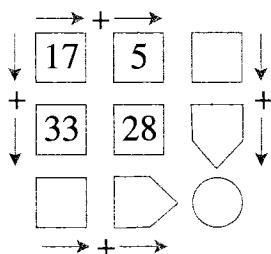
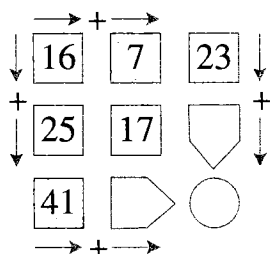
算式: _____





【4】练一练 五

1. 按要求计算,把得数填在空格里。



2. 算一算一至三年级参加早锻炼的人数。

	一年级	二年级	三年级
男生/人	14	23	28
女生/人	17	18	29
总数/人			



3. 回答问题。



28 元

玩具赛车




46 元

洋娃娃



35 元

篮球



17 元

游戏拼图



55 元

飞机模型

我买一个洋娃娃和一套游戏拼图要多少元?



你还能提出什么数学问题?



我买一辆玩具赛车和一架飞机模型要多少元?



$$\square + \square = \square \text{ (元)}$$

$$\square + \square = \square \text{ (元)}$$





【3】练一练 四

1. 列竖式计算。

$$\begin{array}{r} 25 \\ + 36 \\ \hline \end{array}$$

$$\begin{array}{r} 8 \\ + 49 \\ \hline \end{array}$$

$$\begin{array}{r} 28 \\ + 58 \\ \hline \end{array}$$

$$\begin{array}{r} 63 \\ + 29 \\ \hline \end{array}$$

$$\begin{array}{r} 54 \\ + 45 \\ \hline \end{array}$$

$$\begin{array}{r} 37 \\ + 27 \\ \hline \end{array}$$

2. 依次在□里填数。

$$8 \xrightarrow{+5} \square \xrightarrow{+20} \square$$

$$47 \xrightarrow{+8} \square \xrightarrow{+25} \square$$

$$57 \xrightarrow{+30} \square \xrightarrow{+6} \square$$

$$39 \xrightarrow{+27} \square \xrightarrow{+9} \square$$

3. 在○里填>、<或=。

$$76 + 6 \bigcirc 80$$

$$27 + 28 \bigcirc 65$$

$$90 \bigcirc 45 + 46$$

$$39 \bigcirc 29 + 19$$

4. 在□里填数。

$$\begin{array}{r} 65 \\ + \square 7 \\ \hline 92 \end{array}$$

$$\begin{array}{r} \square 4 \\ + 25 \\ \hline 59 \end{array}$$

$$\begin{array}{r} 5\square \\ + \square 9 \\ \hline 86 \end{array}$$

$$\begin{array}{r} 2\square \\ + 6\square \\ \hline \square\square \end{array}$$

5. 他们班共有多少人？



18



我们班男生
有19人。

我们班女生
有17人。





【2】进位加法（二）

1. 在□里填数。

$$\begin{array}{r} 28 \\ + 25 \\ \hline \square 3 \end{array}$$

$$\begin{array}{r} 19 \\ + 26 \\ \hline \square 5 \end{array}$$

$$\begin{array}{r} 7 \\ + 58 \\ \hline \square 5 \end{array}$$

$$\begin{array}{r} 31 \\ + 48 \\ \hline \square 9 \end{array}$$

$$\begin{array}{r} 45 \\ + 23 \\ \hline \square 8 \end{array}$$

$$\begin{array}{r} 63 \\ + 7 \\ \hline \square 0 \end{array}$$

$$\begin{array}{r} 26 \\ + 54 \\ \hline \square 0 \end{array}$$

$$\begin{array}{r} 50 \\ + 19 \\ \hline \square 9 \end{array}$$

2. 列竖式计算。

$$47 + 39$$

$$34 + 56$$

$$68 + 26$$

$$55 + 27$$

$$37 + 16$$



3. 下面的计算对吗？把错的改正过来。


$$\begin{array}{r} 18 \\ + 44 \\ \hline 62 \end{array}$$

$$\begin{array}{r} 34 \\ + 53 \\ \hline 97 \end{array}$$

$$\begin{array}{r} 53 \\ + 17 \\ \hline 60 \end{array}$$

4. 这条路有多长？





三 玩具城里的计算

【1】主题图

1. 算一算,想一想。

$6 + 7 =$

$13 - 7 =$

$8 - 4 =$

$10 + 20 =$

$30 - 20 =$

$40 + 30 =$

$16 + 7 + 20 =$

$43 - 7 - 20 =$

$11 - 5 =$

$16 + 20 + 7 =$

$43 - 20 - 7 =$

$60 - 20 =$

2.



小熊 14 元



小汽车 7 元



布娃娃 42 元

(1) 列式计算。

买一个 和一只 一共要多少元?


一个 比一辆 贵多少元?

买一只 的钱可以买几辆 ?

(2) 你还能提出什么数学问题? 你会算吗?


3. 看图填空。

(1) 原有 17 本 买来 8 本




现在有 本

(2) 小汽车 卖出 12 辆




小火车 卖出 辆

(3) 赛车 20 元



要 元 便宜 3 元

(4) 送出 6 朵 还剩 16 朵




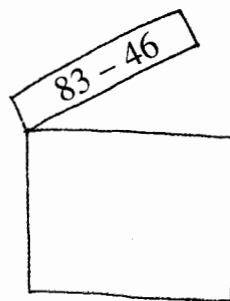
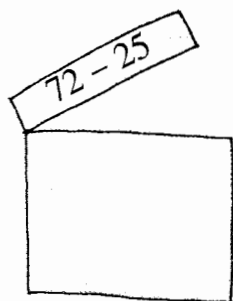
原来有 朵



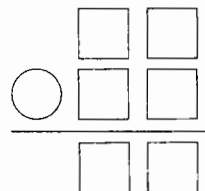
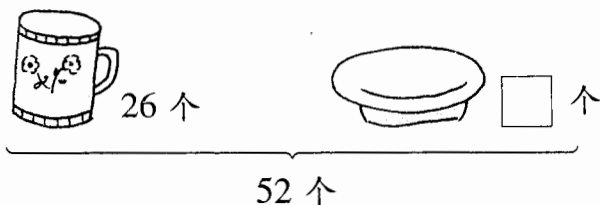
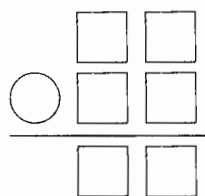
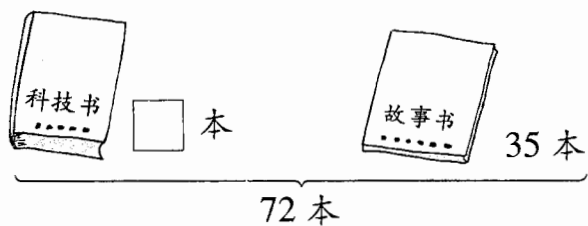


【7】练一练 七

1. 列竖式计算。



2. 计算□里的数。



3. 看表填数,并列式计算。

	一共有 72 辆车		
开走的辆数	28		
剩下的辆数		45	39
列 式			

4. 在□里填数。(先算×法,再算+法)

$$27 = 9 \times 2 + \square \quad 24 = 6 \times 3 + \square \quad 4 \times 5 = 4 \times 4 + \square$$

$$27 = 3 \times 8 + \square \quad 24 = 2 \times 8 + \square \quad 5 \times 4 = 5 \times 3 + \square$$

